



Επαναληπτικό διαγώνισμα στα Μαθηματικά

4^η Ενότητα


Όνομα:.....

Ημερομηνία:.....


1. Γράψε με κλάσμα τι μέρος του σχήματος είναι χρωματισμένο. Βρες τα ισοδύναμα κλάσματα και γράψε τις ισότητες



—



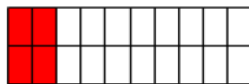
—



—



—




—



—



—



—



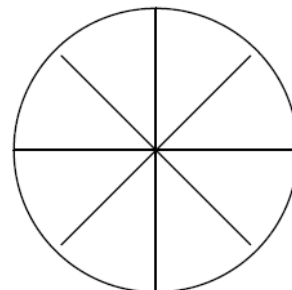
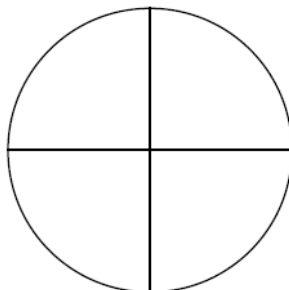

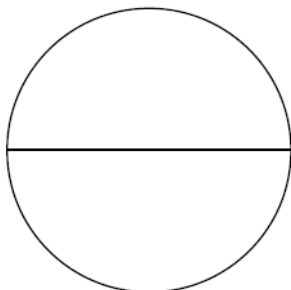
—

α. — = — = —

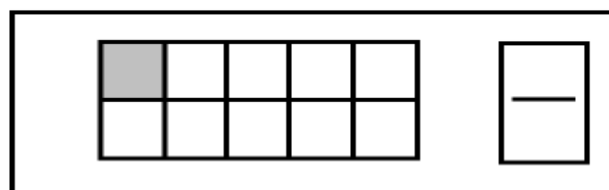
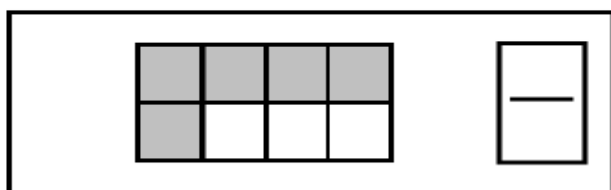
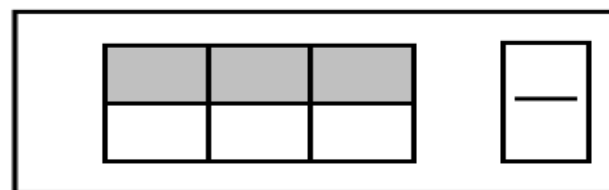
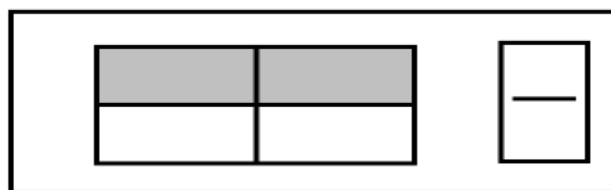
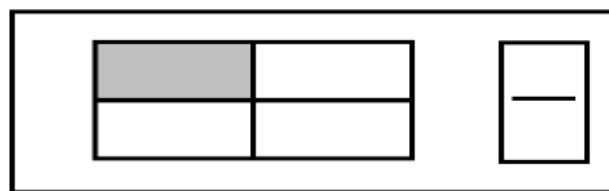

β. — = — = —

γ. — = — = —

2. Οι τρεις πίτσες είναι κομμένες με διαφορετικό τρόπο. Θέλουμε όμως τη μισή πίτσα από κάθε πίτσα. Να χρωματίσεις το μισό κάθε πίτσας



3. Γράψε με κλάσμα τι μέρος είναι σχεδιασμένο



4. Χρωμάτισε τα 2/3 από κάθε σχέδιο

